

### **Инструкция по выполнению работы.**

На выполнение аттестационной работы по географии даётся 40 минут. Работа состоит из 3 частей, содержащих 14 заданий. При выполнении работы разрешается использовать линейку. При выполнении заданий разрешено пользоваться атласом.

**Часть А** содержит 7 заданий. Четыре задания с выбором ответа. К каждому заданию дается четыре ответа, только один из которых верный. Три задания по картам на определение материков, океанов. По плану местности определить расстояние. При выполнении заданий части А выберите правильный вариант ответа и запишите рядом со словом ответ номер выбранного ответа в аттестационной работе. Если Вы записали не тот номер, то зачеркните этот номер крестиком и затем запишите номер правильного ответа.

**Часть Б** состоит из 2 заданий на установление соответствия между материком и географическим объектом, расположенным в ее пределах и между географическими особенностями и природными зонами. Ответы нужно записать в таблицу. В случае записи неверного ответа зачеркните его и запишите рядом новый.

**Часть С** содержит 1 задание на сравнение и сопоставление с развёрнутым ответом, который записывается в аттестационной работе.

При выполнении заданий Вы можете пользоваться черновиком.

### **Спецификация**

#### **Основные умения, которыми должен обладать выпускник 5 класса:**

1. Применять знания науки о природе в решении географических задач.
2. Использовать различные источники информации, находят взаимосвязь тел, веществ и явлений.
3. Использовать знания об открытии Земли в решении географических задач.
4. Применять способности практических знаний о плане местности и географической карты.
5. Выполнять самостоятельно и ответственно различные виды деятельности, включая умение ориентироваться.
6. Формировать ответственное отношение к учению, готовность и способность к саморазвитию.
7. Применять полученные знания об основных оболочках Земли.
8. Использовать карты как модели.

### **Система оценивания аттестационной работы по географии**

#### **ЧАСТЬ А**

За верное выполнение заданий 1–7 выставляется 1 балл. Задание с выбором ответа считается выполненным верно, если учащийся указал номер только правильного ответа. Во всех остальных случаях, (выбран другой ответ; выбрано два или больше ответов, среди которых может быть и правильный; ответ на вопрос отсутствует) задание считается невыполненным

#### **ЧАСТЬ В**

Задание с кратким ответом считается выполненным верно, если верно заполнена вся таблица. За верный ответ на каждое из заданий выставляется 2 балла. Если допущена 1-2 ошибка, выставляется 1 балл.

#### **ЧАСТЬ С**

Задания части С оцениваются в зависимости от полноты и правильности ответа. Может быть выставлено от 0 до 2 баллов.

**Критерии оценивания:**

- "5" – 16-17 баллов
- "4" – 14-15 баллов
- "3" – 9-13 баллов
- "2" – меньше 8 баллов

Муниципальное бюджетное общеобразовательное учреждение «Ирбейская средняя общеобразовательная школа №1» имени Героя Советского Союза С.С. Давыдова  
Промежуточная аттестация по географии за курс 5 класса 2022-2023уч. г

ФИ (ученика) \_\_\_\_\_  
Демонстрационный вариант

**Часть А**

**Задание 1.** Кто из ученых древности впервые использовал слово «география»?

- а) Пифагор; б) Аристотель; в) Пифей; г) Эратосфен.

**Задание 2.** Вид изображения, позволяющий подробно изучить небольшой по площади участок земной поверхности:

- а) глобус; б) географическая карта; в) план; г) аэрофотоснимок.

**Задание 3.** Следствием осевого вращения Земли является

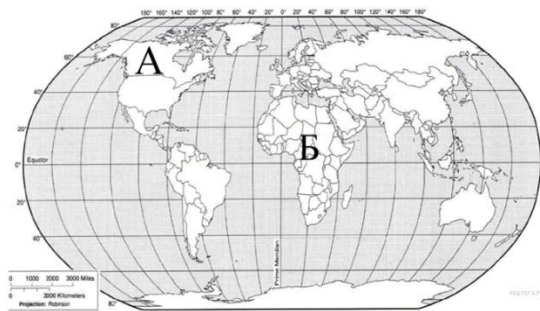
- а) смена времён года                      в) смена дня и ночи  
б) смена погоды                          г) смена времени

**Задание 4.** Напишите самый жаркий материк Земли:

- а) Антарктида;  
б) Африка;  
в) Евразия;  
г) Австралия;

**Задание 5.** Внимательно рассмотрите карту мира. На ней буквами А и Б отмечены два материка.

Запишите названия материков в соответствующее поле.



Названия материка А:

.....

Названия материка Б:

.....

**Задание 6.** С каким из этих двух материков связаны открытия, совершенные путешественниками и исследователями, изображёнными ниже? Укажите название материка.



Генрих Барт

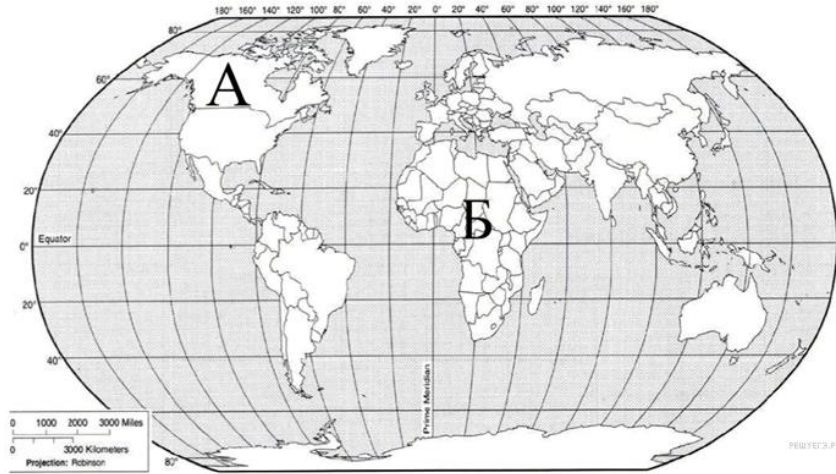


Генри Стенли



Давид Ливингстон

**Задание 7.** Подпишите на карте названия океанов, которые омывают берега материка, названного.

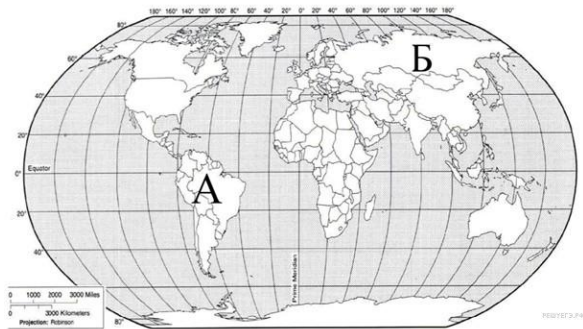


вами.

**Задание 8.** В каких полушариях расположена точка А                      Точка Б

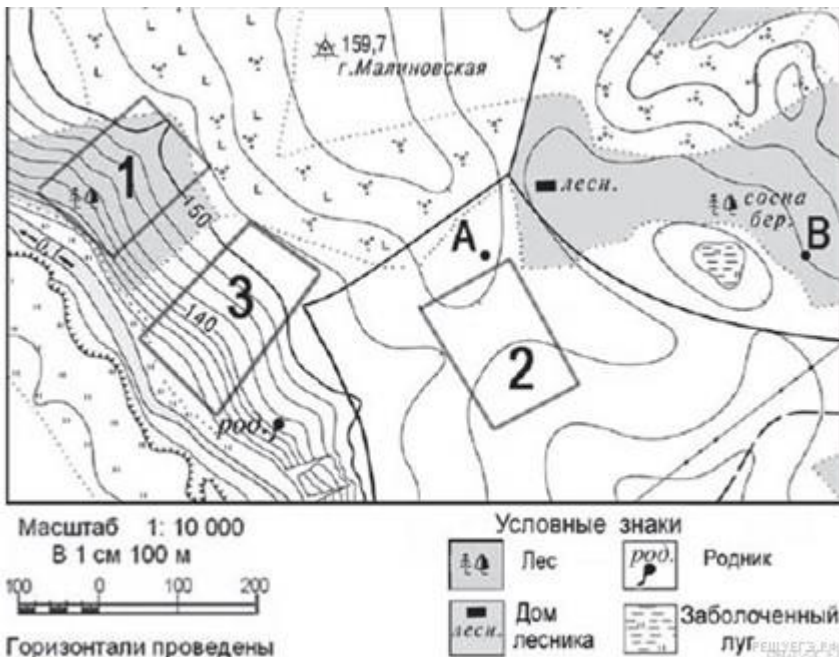
-----

**Задание 9** В каком направлении от точки Б находится точка А?



**Задание 10**

- а) На каком берегу реки расположен родник и смешанный лес?
- б) В каком направлении от горы Малиновская расположен домик лесника?



**Задание 11**

Определите расстояние между точками А и В по прямой. Для выполнения этого задания воспользуйтесь линейкой. Расстояние измеряйте по центрам точек. Ответ округлите до десятков метров и запишите без единиц измерения.

## Часть Б

**В1. Установите соответствие между материком и географическим объектом, расположенным в ее пределах.**

Часть света

А	озеро Байкал	1) Евразия
Б	Река Ориноко	2) Австралия
В	Большой водораздельный хребет	
Г	горы Гималаи	3) Южная Америка
Д	Река Муррей	
Е	Среднесибирское плоскогорье	

Ответ запишите в таблицу

А	Б	В	Г	Д	Е

## В2 Задание

Установите соответствие между географическими особенностями и природными зонами, для которых они характерны: для этого к каждой позиции первого столбца подберите соответствующую позицию из второго столбца.

<b>ГЕОГРАФИЧЕСКИЕ ОСОБЕННОСТИ</b>	<b>ПРИРОДНЫЕ ЗОНЫ</b>
А) устойчивый снежный покров зимой	1) саванны и редколесья
Б) преимущественно травянистая растительность	2) тайга
В) занимает обширные равнины Африки	
Г) произрастание хвойных деревьев	
Д) занимает территорию в пределах умеренного пояса Северного полушария	
Е) местообитание зебр, жирафов, антилоп	

Запишите в таблицу выбранные цифры под соответствующими буквами.

Ответ:

А	Б	В	Г	Д	Е

## Часть С

С1. Чем отличается глобус от географической карты?

## Промежуточная аттестация по географии 5 класс. Ответы

### Часть А

Вопрос	ответ
1	Г
2	В
3	В
4	Б
5	Северная Америка, Африка
6	Африка
7	Атлантический, Индийский
8	А-северное и западное; Б-северное и восточное
9	Северо-запад
10	а) на правом; б) юго-восточном
11	400м

### Часть В

В1 Ответ запишите в таблицу

А	Б	В	Г	Д	Е
1	3	3	1	2	1

В2 Ответ запишите в таблицу

А	Б	В	Г	Д	Е
2	1	1	2	2	1

### Часть С

Глобус – это объемная модель Земли.

Карта – это чертёж, изображённый на плоской поверхности Земли в уменьшенном виде, выполненный в масштабе, при помощи условных знаков.

Глобус - самая точная модель земли.