

Муниципальное бюджетное общеобразовательное учреждение
Ирбейская средняя общеобразовательная школа №1
имени Героя Советского Союза С.С. Давыдова

Демоверсия промежуточной аттестации

по окружающему миру

за курс 1 класса 2022-2023 уч.год

Форма работы: итоговый тест

Критерии оценивания:

Каждый правильный ответ оценивается 1баллом.

«Зачтено» – выполнение работы 50% и более .

«Не зачтено» –выполнение работы ниже 50%

1. Умение различать предметы живой и неживой природы:

Обведи предметы живой природы красным карандашом, а предметы неживой природы синим карандашом.



Планируемый результат: определять признаки разных объектов природы

2. Умение устанавливать соответствие между листом и деревом: соедини линией лист и дерево, с которого он упал.




3. Умение соотносить плоды и семена растений: соедини плод растения и его семена.



4. Умение классифицировать объекты природы по заданному признаку:
проведи линию так, чтобы по одну сторону располагались цветы, которые растут на подоконнике, по другую сторону – цветы, растущие на клумбе.



5. Умение классифицировать объекты природы по заданному признаку: обозначь насекомых – квадратиком, зверей – кружочком, птиц – треугольником.





6. Планируемый результат: различать (узнавать) изученные объекты и явления.
Умение классифицировать объекты природы по заданному признаку:


1. Откуда начинаются реки? Обозначь значком V.





7. Для приготовления пищи люди используют какую воду... обозначь значком V.



8. Откуда в наш дом приходит электричество? Обозначь значком V.



9. Какой опыт показывает, что вода прозрачная? Обозначь значком V.



10. Выбери, на каких рисунках изображена вода? Обозначь значком V.



11. Согласен ли ты с тем, что ... Обозначь значком V (если согласен).

- Весной растения засыпают.
- Летом у растений созревают плоды и семена.
- Зимой на деревьях желтеют листья.
- Осенью на всех растениях распускаются почки.

12. Подумай и впиши соответствующую цифру в скобках, о каких животных идёт речь.

Зима – трудное время для животных. Поэтому некоторые из них всю зиму спят

(_____).

Кто – то заранее к зиме готовится, запасы пищи делает (_____).


Другие даже зимой могут найти себе пищу (_____).



13. Найди на рисунке зимующих птиц. Обозначь значком V.



14. Что нужно положить в кормушку для подкормки птиц. Обозначь значком V.



15. Как надо правильно подписать конверт? Подпиши.

От кого _____

Откуда _____

Индеек места отправления

65 ЛЕТ ТАМБОВСКОЙ ОБЛАСТИ



ТАМБОВ. Здание администрации Тамбовской области

Кому _____

Куда _____

Индеек места назначения

ПОЧТА РОССИИ

16. Когда это бывает? Подпиши времена года.



17. В какое время года мы отмечаем эти праздники? Подпиши времена года.



18. Установи дни недели в правильной последовательности.

Вторник

Четверг

Понедельник

Суббота

Среда

Воскресенье

Пятница

19. Умение классифицировать объекты природы по заданному признаку:

обозначь животных, обитающих в холодных районах Земли – квадратиком, а животных, обитающих в тропических лесах – кружочком. Кто здесь лишний? Где обитает это животное? Напиши (_____).



20. Что является главной причиной перелёта птиц? Зачеркни ненужное.

- Птицы боятся морозов.
- Зимой очень короткий день.
- Отсутствие нужного корма.

21. Закончи предложение. Допиши.

Много миллионов лет назад плавали в водах тёплых морей и озёр, бродили по опушкам лесов гиганты и карлики эпохи пресмыкающихся - _____.

22. На каком рисунке изображён самый древний предмет. Обозначь значком V.



23. Какой из этих знаков запрещает движение на велосипеде? Обозначь значком V.



24. Что это за профессии? Соотнеси названия профессий с картинками.



строитель

пожарный

врач

учитель

почтальон


повар

22. Дополни предложения.


- Самая близкая, самая главная для нас звезда – наше _____ .
- Если внимательно рассматривать ночное звёздное небо, на нём можно увидеть много разных рисунков из звёзд, иногда похожих на людей, зверей или сказочных чудищ. Это _____ .
- Ветер – это движение _____ .
- Облако – это скопление очень маленьких капелек _____ или кристалликов _____ .
- Облака отличаются _____, _____ и приносят разную _____ .
- Если после дождя выглянет солнце, на небе может появиться _____ .

Слова для справок: радуга, воздуха, созвездия, Солнце, воды, льда, формой, цветом, погоду.


23. Отметь созвездие Большой Медведицы. Обозначь значком V.



23. Отметь цифрой 1 перистые облака, 2 – слоистые, 3 – кучевые. Из каких облаков может пойти дождь. Обозначь значком V.



24. Какие цвета составляют радугу? Нарисуй её.



Критерии оценивания:

Каждый правильный ответ оценивается 1 баллом.

«Зачтено» – выполнение работы 50% и более .

«Не зачтено» – выполнение работы ниже 50%